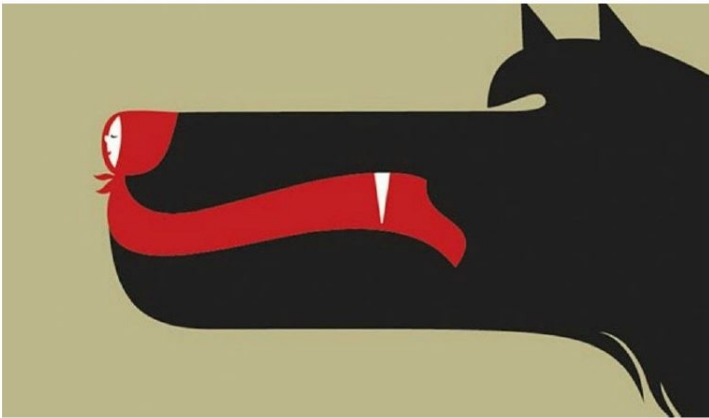




1º DE PRIMARIA

Escribe los personajes del cuento:



CAPERUCITA Y EL LOBO FEROS



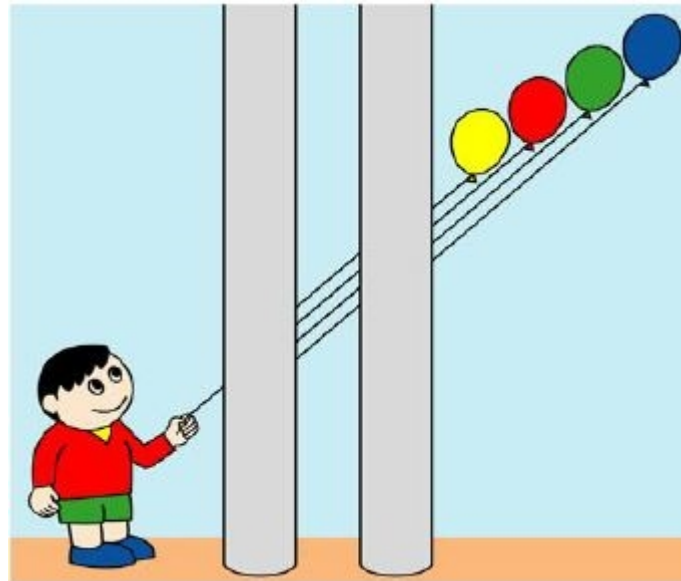
¿CUÁNTOS ANIMALES VES?

Perro, gato y ratón.

Un pato y un niño nacen el mismo día. Al cabo de un año ¿Cuál es mayor de los dos?




El pato porque tendrá un año y pico.



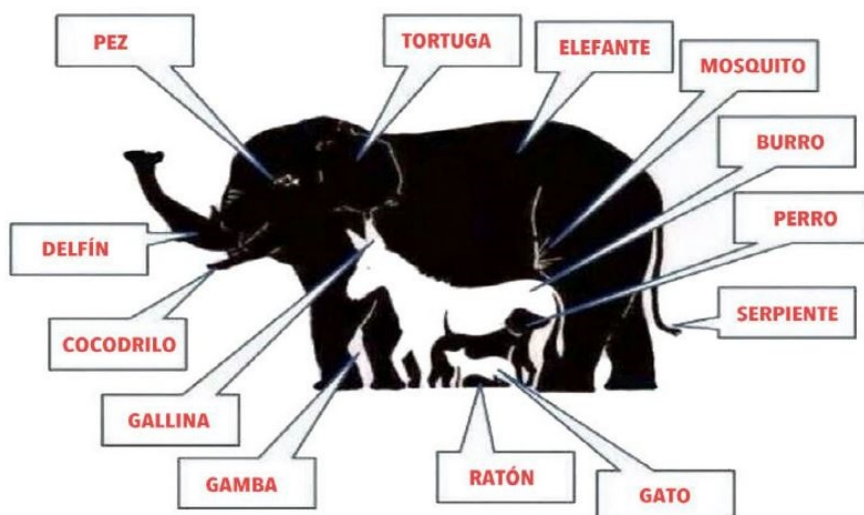
¿Qué globo tiene el niño en la mano?

El de color amarillo

¿Cuántos animales ves?



¿CUÁNTOS ANIMALES VES?





2º DE PRIMARIA

¿Cuál es el número que si lo pones al revés vale menos?

El número 9 (6)

El número 9 (6)

¿Cuál es el número que si le quitas la mitad vale cero?

El ocho ~~8~~

Hay gatos en un cajón, cada gato en un rincón, cada gato ve tres gatos ¿sabes cuántos gatos son?



Si estás participando en una carrera y adelantas al segundo, ¿en qué posición terminarás la carrera?

Terminarás el segundo.

Si un pastor tiene 15 ovejas y se le mueren todas menos nueve, ¿cuántas le quedan?

Le quedan 9.



3º DE PRIMARIA

Dos personas salieron a pasear. El menor es hijo del mayor, pero el mayor no es padre del menor ¿Sabes quién es?

PUEDA SER: SU ABUELA / SU TÍO / SU MADRE / SU ABUELO

Su madre

¿Cómo sale un caballo blanco del mar rojo?

Mojado

¿Cuántos animales tengo si todos son perros menos dos, todos son gatos menos 2 y todos son pájaros menos 2?

3 animales (un perro, un gato y un pájaro?)

Un gallo pone un huevo todos los días. ¿Cuántos pondrá en una semana?

¡Pero si los gallos no ponen huevos!

Viajando yo hacia Villavieja me crucé con 7 viejas que llevaban 7 sacos llenos de 7 kilos de tomates. ¿Cuántas viejas, sacos y tomates iban hacia Villavieja?

Ninguna, el que iba era yo.



4º DE PRIMARIA

¿Cuál es el número que usando tres cifras iguales nos da como resultado 12 sin incluir el 4?

$$11+1= 12$$

Si un niño tarda una hora en recorrer 1 kilómetro. ¿Cuánto tardarán 2 niños en recorrer 2 kilómetros?

Dos horas

Si en una familia hay 11 hermanos y cada hermano tiene una hermana. ¿Cuántos hermanos son en total?

12 hermanos

Si una camisa se seca en 7 minutos. ¿Cuánto tardarán en secarse 2 camisas?

7 minutos también

En un restaurante hay 4 panes y medio en una mesa y 2 panes y medio en otra mesa. ¿Cuántos panes hay en total?

14 medios panes



5º DE PRIMARIA

Si en una carrera adelantas al segundo,
¿en qué lugar vas ahora?

El segundo (2º)

¿Cuál es el animal que ladra
como un perro?

La perra

¿Por qué La Parra empieza por L y
termina por T?

Porque así se escribe cada palabra, **L**a Parra con **L** y termina con **T**

Entro en un cuarto oscuro y traigo
unas cerillas. Me encuentro con una
lámpara, un leño y una vela. ¿Qué
enciendo primero?

La cerilla

“Tres tristes tigres tragaban trigo en un
trigal”

¿Cómo deletrearías eso sin usar la letra R?

Muy fácil, eso se deletrea E S O



6º DE PRIMARIA

Los 6 vasos

Moviendo 1 solo vaso hay que dejar la hilera de vasos intercalados: uno lleno, uno vacío, uno lleno, uno vacío, uno lleno, uno vacío.



¿Se puede predecir el resultado de un partido de fútbol antes de que empiece?

Sí. 0- 0

Si te encuentras en un avión. Detrás tienes un caballo y delante un coche
¿En dónde estás?

En un tiovivo



Al leer un libro, si cuentas de la página 68 hasta la pagina 98, cuántas veces encontrarías el numero 8?

14 veces

A una fiesta asistieron 2 maestros con sus esposas, 6 médicos con sus esposas y tres niños por cada familia de los médicos. ¿Cuántas personas asistieron a la fiesta?

34 personas

2 maestros y 2 esposas = 4

6 médicos y 2 esposas= 12

3 niños X 6 familias de médicos= 18

Si Ainhoa tiene una caja grande con 3 cajas medianas dentro, 4 chicas en cada una de las medianas y 5 todavía más pequeñas en cada una de las chicas. ¿Cuántas cajas tiene Ainhoa?

Si Ainhoa tiene una caja grande con 3 cajas medianas dentro, 4 chicas en cada una de las medianas y 5 todavía más pequeñas en cada una de las chicas. ¿Cuántas cajas tiene Ainhoa?

76 cajas

1 caja grande

3 cajas medianas

12 cajas chicas

60 cajas pequeñas



Un señor tiene 55 años de edad y su sobrino 30. ¿Cuántos años hace que el tío tenía el doble de edad que el sobrino?

Un señor tiene 55 años de edad y su sobrino 30. ¿Cuántos años hace que el tío tenía el doble de edad que el sobrino?

Hace 5 años.

Tío 55 años-----sobrino 30 años.

Tío 54 años-----sobrino 29 años.

Tío 53 años-----sobrino 28 años.

Tío 52 años-----sobrino 27 años.

Tío 51 años-----sobrino 26 años.

Tío 50 años-----sobrino 25 años.

Busca un número menor que 30, que si lo triplicamos es la mitad de 150.

Busca un número menor que 30, que si lo triplicamos es la mitad de 150.

25

Durante el día Erika ha entrado cinco veces a la casa de su abuela, con seguridad. ¿Cuántas veces ha salido?

Durante el día Erika ha entrado cinco veces a la casa de su abuela, con seguridad. ¿Cuántas veces ha salido?

Cuatro veces, pues puede que la quinta vez que entró, no saliera.



Sara tiene 11 manzanas en una cesta para repartir el día de la fruta entre sus once compañeros. ¿Cómo hará para darle una pieza de fruta a cada compañero y quede una manzana en la cesta?

Al undécimo niño le da su manzana dentro de la cesta.

¿De qué manera podrías transportar agua en un colador?

Congelándola

Multiplica cualquier número de tres cifras por 7, el resultado por 11 y de nuevo por 13. ¡Sorpresa!

Siempre dará ese número, aunque sea duplicado.