
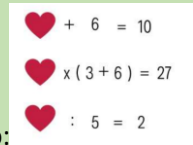


LUNES 24

CURSOS	1º	2º	3º	4º	5º	6º
ACERTIJOS MATEMÁTICOS.	No soy un triángulo, un rectángulo, ni soy cuadrado. Mi lado es una línea curva ¿Quién soy?	¿Cuál es el número que al darle la vuelta disminuye su valor?	Si 3 niños cazan 3 moscas en 3 minutos, ¿cuánto tardarán 30 niños en cazar 30 moscas?	Soy un número de 3 cifras. La suma de las tres cifras es 18. La primera cifra es la mitad que la segunda y un tercio de la tercera. ¿Qué número soy?	CUATRO GATOS EN UN CUARTO, CADA GATO EN UN RINCÓN, CADA GATO VE TRES GATOS, ADIVINA CUÁNTOS GATOS SON.	¿Cuántos cuadrados ves? 
SOLUCIONES	EL CÍRCULO	EL NÚMERO 9	3 MINUTOS	369	CUATRO GATOS	Los cuadrados ocultos. Hay 12 , 6 pequeños que se pueden ver a simple vista y luego 6 que se puede formar con los demás
INGLÉS	1º Y 2º WHAT COLOR IS IF YOU MIX YELLOW AND BLUE COLORS?		3º Y 4º I'M AN ANIMAL. I CLIMB THE TREES. I LIKE BANANAS. WHO AM I?		5º Y 6º I HAVE GOT HANDS BUT I'M NOT A PERSON. WHO AM I?	
SOLUCIONES	GREEN		MONKEY		A CLOCK	
PORTUGUÉS	DE CERA FAZ A CASINHA, ONDE ELA VIVA HÁ DOÇURA. DAS FLORES É AMIGUINHA ESTA LOIRA CRIATURA, O QUE É?		QUANDO FALAMOS O SEU NOME DESAPARECE, O QUE É?		QUAL É A COISA, QUAL É ELA QUE TEM OITO LETRAS E TIRANDO A METADE AINDA FICA OITO?	
SOLUCIONES	A ABELHA		O SILÊNCIO		BISCOITO	

MARTES 25

CURSOS	1º	2º	3º	4º	5º	6º
ACERTIJOS MATEMÁTICOS.	Adivina, adivina una figura es, dos lados más largos y dos cortos también, se parece al cuadrado, pero se alarga de un lado a la vez.	Ana tiene 2 perros, 8 peces y 3 gatos. ¿Cuántas mascotas tiene Juan?	Si tienes 7 velas encendidas y se apagan 2, ¿cuántas velas me quedan?	Rosa es 3 años mayor que Lili. Toti tiene la mitad de años que Rosa. Lili tiene 11 años. ¿Cuál es la edad de los otros?	SI UN PASTOR TIENE 15 OVEJAS Y SE LE MUEREN TODAS MENOS NUEVE, ¿CUÁNTAS LE QUEDAN?	Acierta lo que vale el corazón en cada caso: 
SOLUCIONES	RECTÁNGULO	NINGUNA PORQUE SON TODAS DE ANA	7 VELAS	Lili= 11 años Rosa=11+3= 14 años Toti= 14/2= 7 años	NUEVE.	Acertijo con símbolos. En el primero vale 4. En el segundo vale 3 En el tercero vale 10
INGLÉS	1º Y 2º		3º Y 4º		5º Y 6º	
	I eat vegetables, I can run fast, I can be a pet and I have got long ears. Who am I?		It is on your head, And under your hat. What is it?		I'm your uncle's brother and I'm not your uncle. Who am I?	
SOLUCIONES	A RABBIT		YOUR HAIR		YOUR FATHER	
PORTUGUÉS	QUAL É A COISA, QUAL É ELA QUE TEM CINCO DEDOS MAS NÃO TEM UNHA?		QUAL É A COISA, QUAL É ELA QUE ENTRA NA ÁGUA MAS NÃO SE MOLHA?		QUAL É A COISA, QUAL É ELA QUE PÕE O MUNDO A DANÇAR, TEM NOTAS E NÃO É DINHEIRO?	
SOLUCIONES	AS LUVAS		A SOMBRA		A MÚSICA	

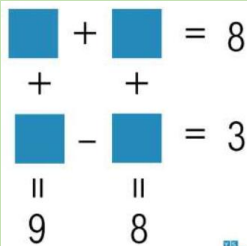
MIÉRCOLES 26

CURSOS	1º	2º	3º	4º	5º	6º
ACERTIJOS MATEMÁTICOS.	Si Ana habla más bajo que Carmen, y Elia habla más alto que Carmen ¿Habla Ana más alto o más bajo que Elia?	Lucía tiene 3 montones de arena, Pablo 2 montones y Manuel 4 montones. Si deciden juntar todos los montones ¿Cuántos montones tendrán en total?	¿Cuál es el número que si le quitas la mitad vale 0?	Pan, pan y pan, pan y pan y medio, cuatro medios panes, y tres panes y medio. ¿Cuántos panes son?	TENGO MÁS DE 3 LADOS Y MENOS DE 5 LADOS. TENGO TODOS MIS LADOS IGUALES. ¿QUIÉN SOY?	¿Qué número tiene el mismo número de letras que el valor que lo expresa?
SOLUCIONES	MÁS BAJO	UN SOLO MONTÓN	EL OCHO	11 panes.	CUADRADO	EL CINCO
INGLÉS	1º Y 2º Monday, Tuesday, Wednesday, Thursday, Friday, Saturday and		3º Y 4º It is round and yellow, It is like a ball of fire. It rises in the east, It sets in the west. What is it?		5º Y 6º What has legs, but doesn't walk?	
SOLUCIONES	THURSDAY		THE SUN		A TABLE	
PORTUGUÉS	CORRE, CORRE SEM TER PÉ, BATE NO ROSTO MAS NÃO SE VÊ, O QUE É?		QUAL É A COISA, QUAL É ELA QUE TEM CABEÇA E DENTE MAS NÃO É BICHO NEM É GENTE?		QUAL É A COISA, QUAL É ELA QUE QUANTO MAIS AUMENTA, MENOS A GENTE VÊ?	
SOLUCIONES	O VENTO		O ALHO		A ESCURIDÃO	

JUEVES 27

CURSOS	1º	2º	3º	4º	5º	6º
ACERTIJOS MATEMÁTICOS.	Una gallina tiene dos patas ¿Cuántas gallinas hay si tenemos 10 patas?	Soy más de uno sin llegar a tres y llegaré a cuatro cuando dos me des. ¿Cuál número soy?	Con uno comienzo, con uno sigo y con uno termino, ¿qué número soy?	Si un pastor tiene 15 ovejas y se le mueren todas menos nueve, ¿Cuántas le quedan?	UN BATE Y UNA PELOTA CUESTAN 110 € EN CONJUNTO. EL BATE CUESTA 100 € MÁS QUE LA PELOTA. ¿CUÁNTO CUESTA LA PELOTA?	¿Cuántas veces se puede restar 1 a la cifra 1111?
SOLUCIONES	5	EL 2	EL 111	9	BATE 105, PELOTA 5	solo una vez , ya que en las posteriores ocasiones estarías restando 1 a otros números (1110, 1109
INGLÉS	1º Y 2º I'm a vegetable, I'm red, I'm round . You can eat me with macaroni.		3º Y 4º What building has the most stories?		5º Y 6º What building has lots of money?	
SOLUCIONES	A TOMATO.		THE LIBRARY		THE bank	
PORTUGUÉS	O QUE É, O QUE É...SÃO SETE IRMÃOS, CINCO VÃO À FEIRA E OS OUTROS DOIS NÃO?		O QUE É QUE É QUE TODO NARIZ TEM NA PONTA?		O QUE É, O QUE É...O CÉU QUE NUNCA TEM ESTRELAS?	
SOLUCIONES	OS DIAS DA SEMANA		O "Z"		O CÉU DA BOCA	

VIERNES 28

CURSOS	1º	2º	3º	4º	5º	6º
ACERTIJOS MATEMÁTICOS.	Una bici tiene 2 ruedas ¿Cuántas ruedas hay si tengo 3 bicis?	Si le sumas a su hermano gemelo al tres, ya sabes cuál es.	Si tú conduces un autobús con 25 pasajeros dentro y se bajan 15, ¿cuántos años tiene el conductor?	¿Cuánto vale cada cuadrado? 	CORREN MÁS QUE LOS MINUTOS PERO... NUNCA LLEGAN LOS PRIMEROS!!! ¿QUÉ SON?	Un pastor tiene 18 ovejas, y se le mueren todas menos 10. ¿Cuántas ovejas le quedan al pastor?
SOLUCIONES	6	EL 6	TUS AÑOS (recuerda que tú eres el conductor)	Sería: $3 + 5 = 8$ $6 - 3 = 3$	LOS SEGUNDOS	DIEZ
INGLÉS	1º Y 2º It's a toy, it's round and you can play football with it. What am I?		3º Y 4º Which letter is a part of the body?		5º Y 6º What kind of mail can a mouse send?	
SOLUCIONES	A BALL.		THE LETTER I (EYE)		AN EMAIL	
PORTUGUÉS	QUAL É O BICHO QUE ANDA SEMPRE COM PATAS?		QUAL É O ANIMAL QUE INVENTOU A FILA?		O QUE É, O QUE É... É UMA CAIXINHA DE BEM-QUERER, NÃO HÁ CARPINTEIRO QUE A SAIBA FAZER?	
SOLUCIONES	O PATO		A FORMIGA		A NOZ	