

UNIDAD 13

Nombre _____ Fecha _____

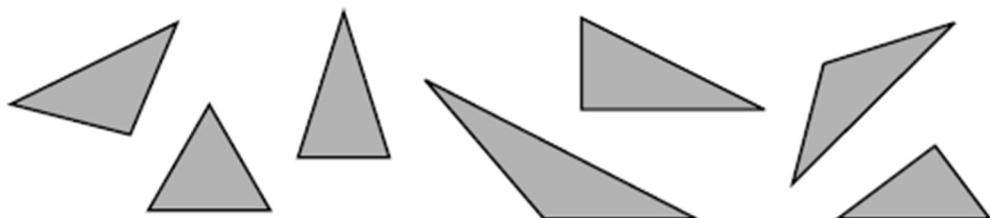
- 1** Clasifica estos polígonos según sus lados y escribe debajo de cada uno su nombre.



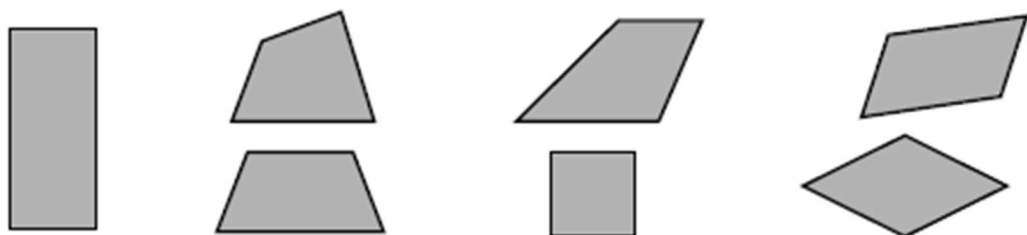
- 2** Razona si esta frase es verdadera o falsa.

• Un polígono es regular si tiene todos sus lados iguales. _____

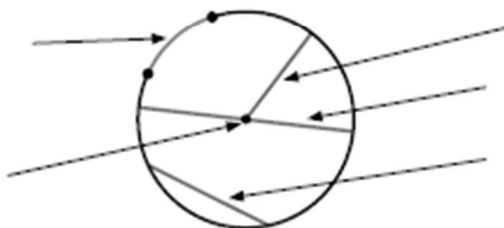
- 3** Clasifica estos triángulos según sus lados y sus ángulos.



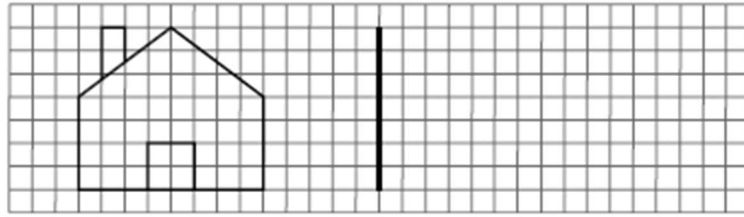
- 4** Clasifica estos cuadriláteros. Si son paralelogramos, escribe también su nombre.



- 5** Escribe el nombre de los elementos señalados.



6 Traza la figura simétrica respecto al eje.



7. Mi tío ha dado tres vueltas a su parcela pentagonal regular de 150 metros de lado.
¿Cuántos metros ha recorrido?